

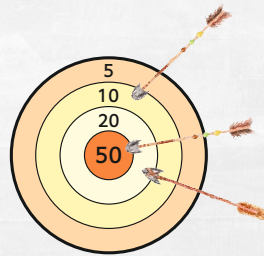
Bernd Bär schießt immer
3 Pfeile auf die Scheibe.
Wie viele Punkte hat er jeweils erzielt ?



Schreibe die Aufgabe
und das Ergebnis auf.

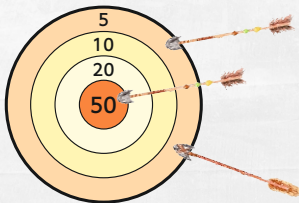
www.mathemonsterchen.de

Bernd Bär hat 80 Punkte erzielt.



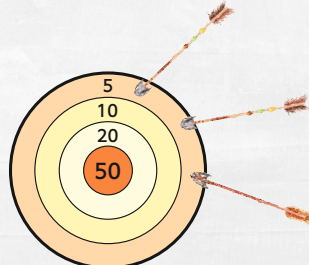
$$10 + 20 + 50 = \underline{80}$$

Bernd Bär hat ___ Punkte erzielt.



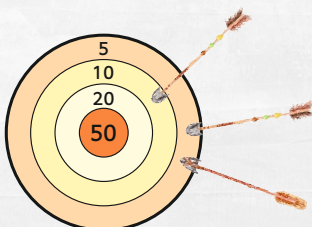
$$\underline{\quad} + \underline{\quad} + \underline{\quad} = \underline{\quad}$$

Bernd Bär hat ___ Punkte erzielt.



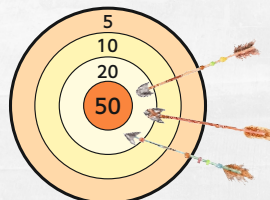
$$\underline{\quad} + \underline{\quad} + \underline{\quad} = \underline{\quad}$$

Bernd Bär hat ___ Punkte erzielt.



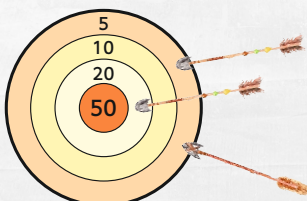
$$\underline{\quad} + \underline{\quad} + \underline{\quad} = \underline{\quad}$$

Bernd Bär hat ___ Punkte erzielt.



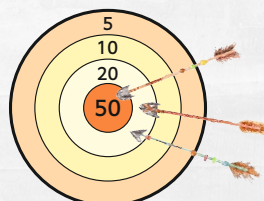
$$\underline{\quad} + \underline{\quad} + \underline{\quad} = \underline{\quad}$$

Bernd Bär hat ___ Punkte erzielt.



$$\underline{\quad} + \underline{\quad} + \underline{\quad} = \underline{\quad}$$

Bernd Bär hat ___ Punkte erzielt.



$$\underline{\quad} + \underline{\quad} + \underline{\quad} = \underline{\quad}$$

15 Punkte

60 Punkte

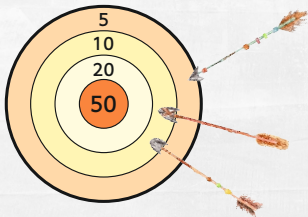
60 Punkte

20 Punkte

90 Punkte

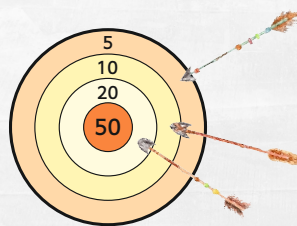
30 Punkte

Bernd Bär hat ___ Punkte erzielt.



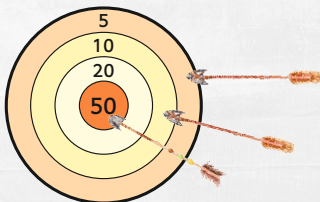
$$_ + _ + _ = _$$

Bernd Bär hat ___ Punkte erzielt.



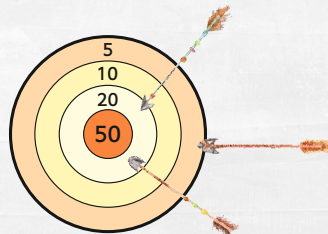
$$_ + _ + _ = _$$

Bernd Bär hat ___ Punkte erzielt.



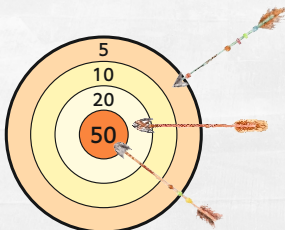
$$_ + _ + _ = _$$

Bernd Bär hat ___ Punkte erzielt.



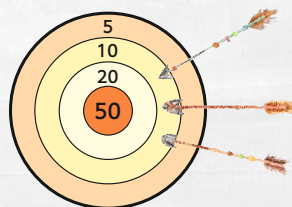
$$_ + _ + _ = _$$

Bernd Bär hat ___ Punkte erzielt.



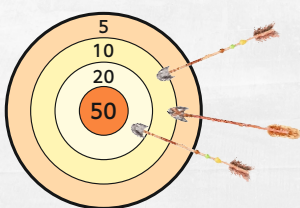
$$_ + _ + _ = _$$

Bernd Bär hat ___ Punkte erzielt.



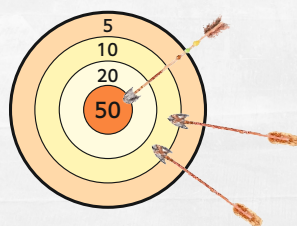
$$_ + _ + _ = _$$

Bernd Bär hat ___ Punkte erzielt.



$$_ + _ + _ = _$$

Bernd Bär hat ___ Punkte erzielt.



$$_ + _ + _ = _$$

35 Punkte

25 Punkte

45 Punkte

65 Punkte

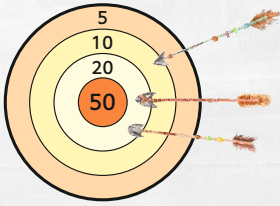
30 Punkte

75 Punkte

70 Punkte

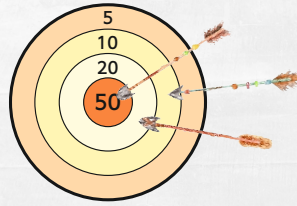
40 Punkte

Bernd Bär hat ___ Punkte erzielt.



___ + ___ + ___ = ___

Bernd Bär hat ___ Punkte erzielt.



___ + ___ + ___ = ___

80 Punkte

50 Punkte