
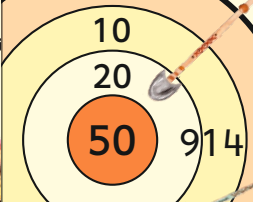



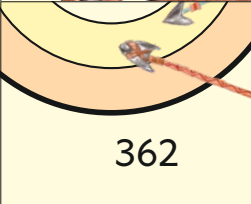
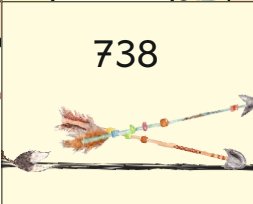






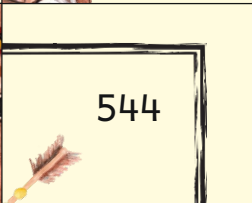








Welche Zahl ist ...

das Doppelte von 263 ?	die Hälfte von 248 ?	das Doppelte von 385 ?	die Hälfte von 782 ?	das Doppelte von 272 ?
die Hälfte von 926 ?	das Doppelte von 422 ?	die Hälfte von 744 ?	das Doppelte von 457 ?	das Doppelte von 259 ?
das Doppelte von 286 ?	die Hälfte von 368 ?	das Doppelte von 192 ?	die Hälfte von 724 ?	die Hälfte von 982 ?
die Hälfte von 348 ?	das Doppelte von 475 ?	die Hälfte von 704 ?	das Doppelte von 369 ?	die Hälfte von 906 ?






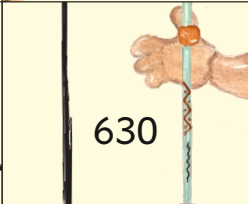













www.mathemonsterchen.de

 124	 10 20 50 914	 950	 572	 384
 362	 738	 174	 770	 491
 184	 391	 844	 544	 352
 463	 453	 518	 372	 526

Welche Zahl ist ...

um 29 kleiner als 420 ?	der 8. Teil von 560 ?	um 46 größer als 899 ?	das 7-fache von 60 ?	um 70 größer als 534 ?
um 25 größer als 865 ?	das 3-fache von 72 ?	der 9. Teil von 810 ?	um 46 kleiner als 788 ?	der 6. Teil von 180 ?
das 9-fache von 70 ?	um 99 kleiner als 800 ?	der 5. Teil von 300 ?	um 77 größer als 290 ?	um 99 größer als 502 ?
um 45 kleiner als 730 ?	das 4-fache von 42 ?	um 37 größer als 580 ?	um 70 kleiner als 825 ?	der 10. Teil von 340 ?



















www.mathemonsterchen.de



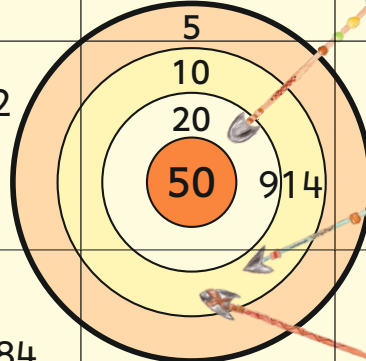




 367	 945	 701	 617	 890
755	 630	 90	 34	 391
 742	 685	 420	 604	 60
 30	 601	 216	 168	 70





Welche Zahl ist ...


um 20 kleiner als die Summe von 560 und 29 ?	um 19 größer als die Hälfte von 920 ?	um 9 kleiner als die Differenz von 800 und 27 ?	um 29 kleiner als das Doppelte von 360 ?	um 25 größer als die Summe von 190 und 170 ?
um 5 kleiner als das Doppelte von 270 ?	um 18 kleiner als das Doppelte von 410 ?	um 7 kleiner als die Summe von 330 und 490 ?	um 11 größer als die Hälfte von 740 ?	um 91 größer als das Doppelte von 250 ?
um 100 kleiner als die Differenz von 862 und 322 ?	um 75 größer als die Hälfte von 860 ?	um 40 größer als die Summe von 351 und 29 ?	um 70 kleiner als die Summe von 444 und 333 ?	um 120 größer als das Doppelte von 390 ?
um 80 größer als die Summe von 407 und 370 ?	um 55 kleiner als die Hälfte von 910 ?	um 22 kleiner als das Doppelte von 185 ?	um 29 kleiner als die Differenz von 630 und 150 ?	um 50 kleiner als die Hälfte von 730 ?

www.mathemonsterchen.de

348 	591	 857	 707	 479
 451	 691	813 	900 	535
385 	 381	315 	400 	764 
 569	802 	420 	440 	505 

	124	770	391	544
526		372		518
463	844	384	914	491
572	184	362		
	174	352	738	
	950			453

391	70	945	420	604
		90		30
890	216	60	742	601
630	701		367	
685	168	617	755	34



Bilder:vivastarkids