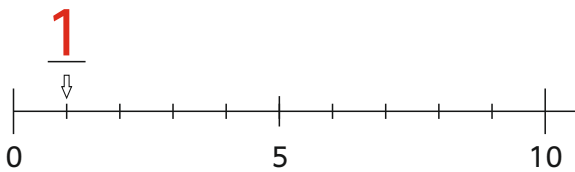


Zahlen am Zahlenstrahl im ZR 100



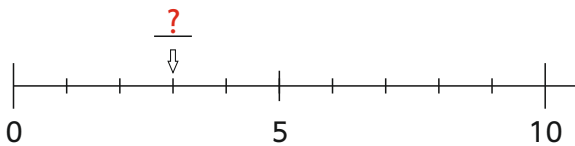
www.mathemonsterchen.de



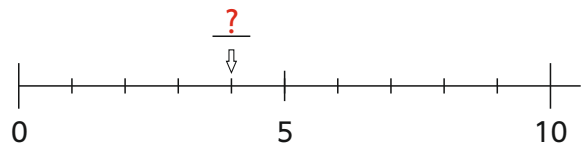
Wie heißt die Zahl ?



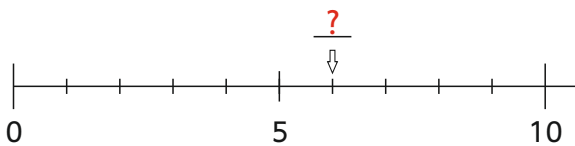
Wie heißt die Zahl ?



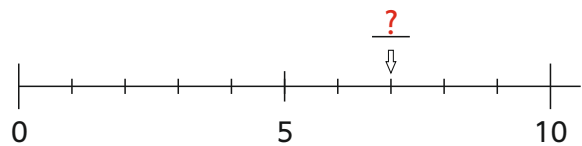
Wie heißt die Zahl ?



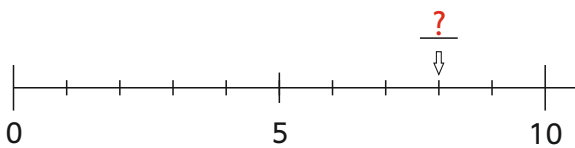
Wie heißt die Zahl ?



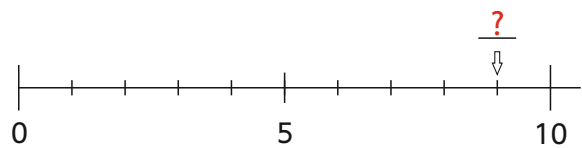
Wie heißt die Zahl ?



Wie heißt die Zahl ?



Wie heißt die Zahl ?



2

4

7

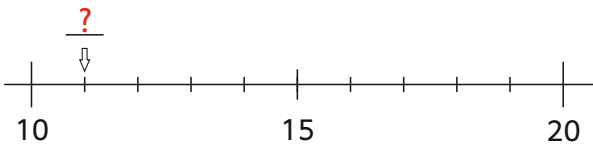
9

3

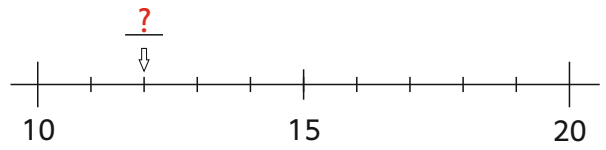
6

8

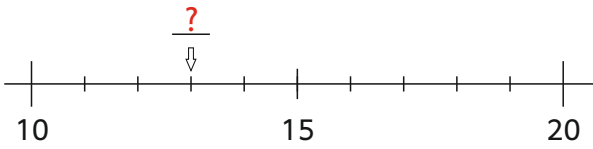
Wie heißt die Zahl ?



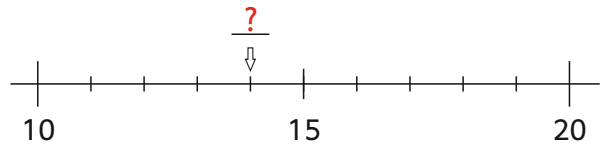
Wie heißt die Zahl ?



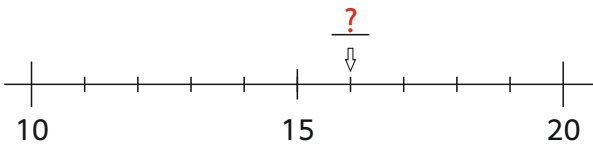
Wie heißt die Zahl ?



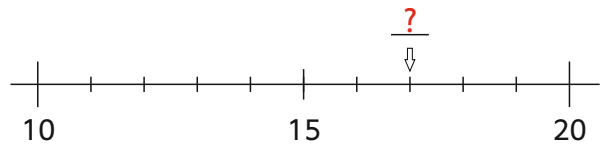
Wie heißt die Zahl ?



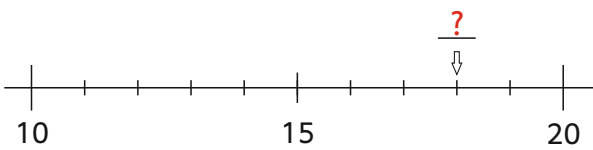
Wie heißt die Zahl ?



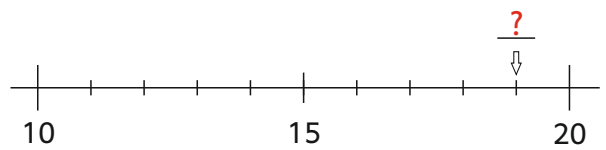
Wie heißt die Zahl ?



Wie heißt die Zahl ?



Wie heißt die Zahl ?



12

11

14

13

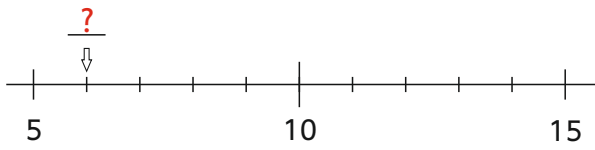
17

16

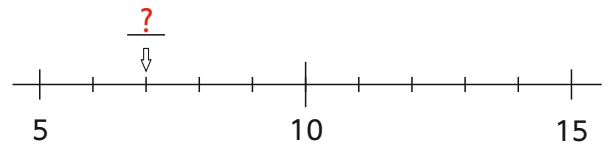
19

18

Wie heißt die Zahl ?



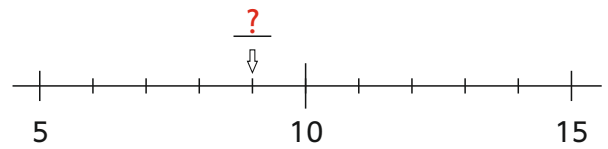
Wie heißt die Zahl ?



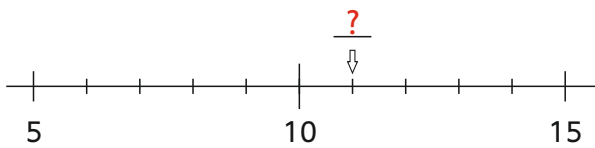
Wie heißt die Zahl ?



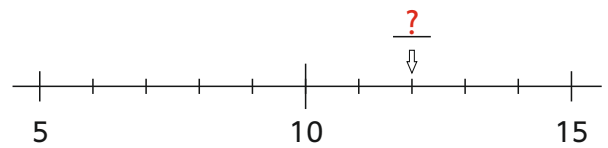
Wie heißt die Zahl ?



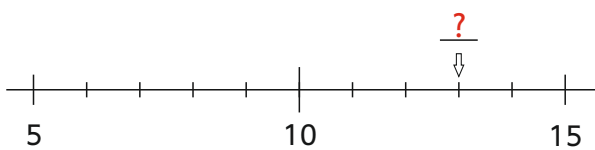
Wie heißt die Zahl ?



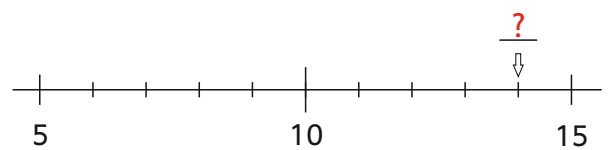
Wie heißt die Zahl ?



Wie heißt die Zahl ?



Wie heißt die Zahl ?



7

6

9

8

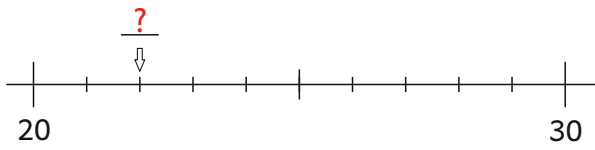
12

11

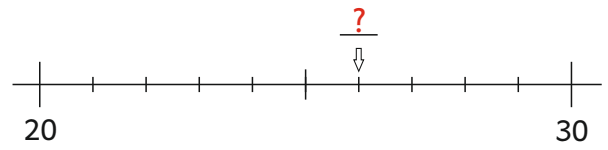
14

13

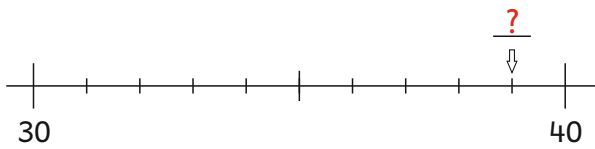
Wie heißt die Zahl ?



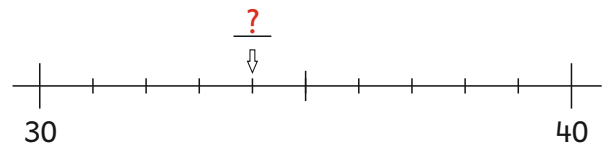
Wie heißt die Zahl ?



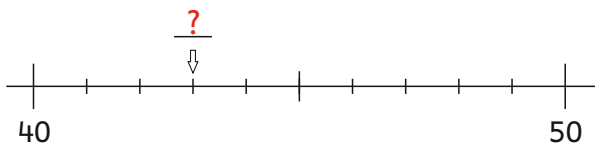
Wie heißt die Zahl ?



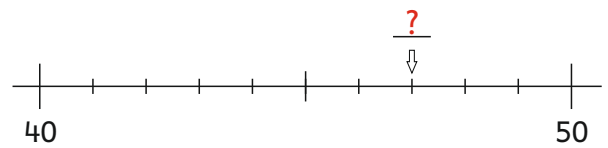
Wie heißt die Zahl ?



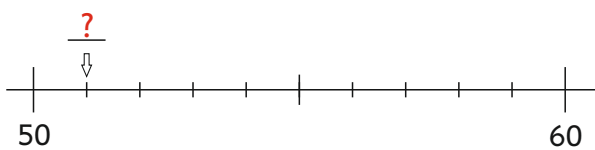
Wie heißt die Zahl ?



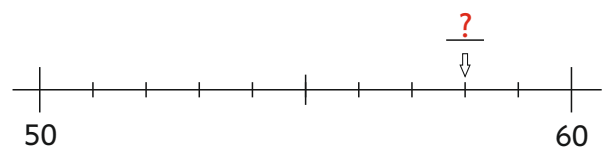
Wie heißt die Zahl ?



Wie heißt die Zahl ?



Wie heißt die Zahl ?



26

22

34

39

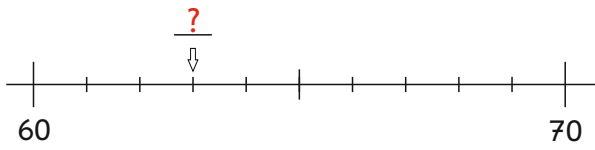
47

43

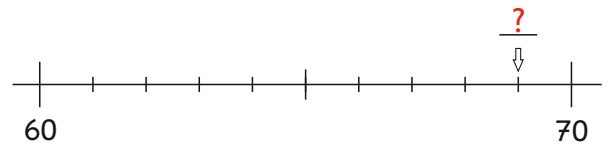
58

51

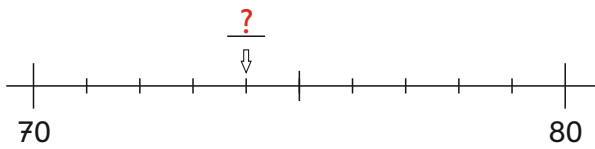
Wie heißt die Zahl ?



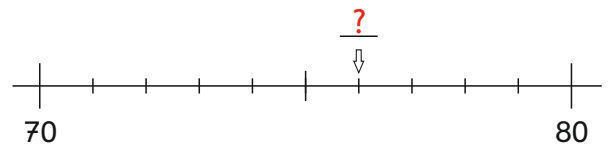
Wie heißt die Zahl ?



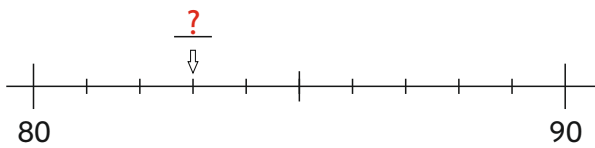
Wie heißt die Zahl ?



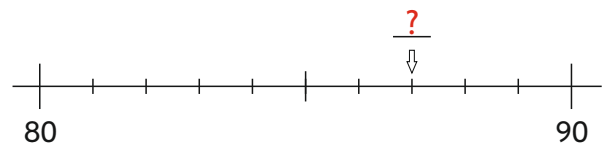
Wie heißt die Zahl ?



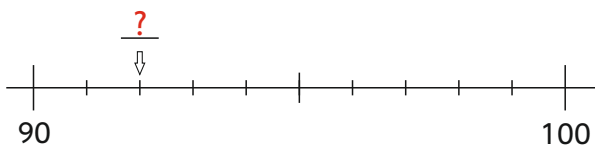
Wie heißt die Zahl ?



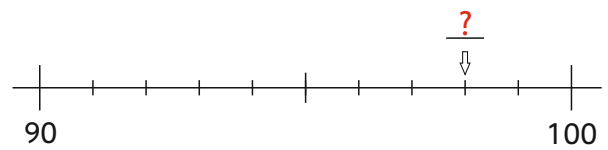
Wie heißt die Zahl ?



Wie heißt die Zahl ?



Wie heißt die Zahl ?



69

63

76

74

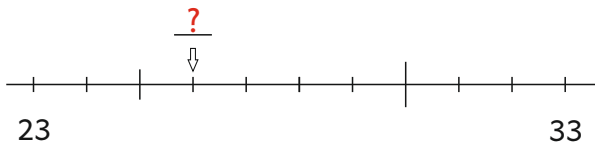
82

83

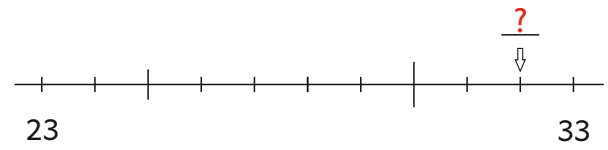
98

92

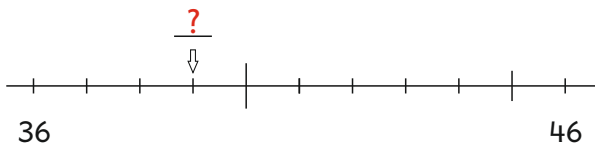
Wie heißt die Zahl ?



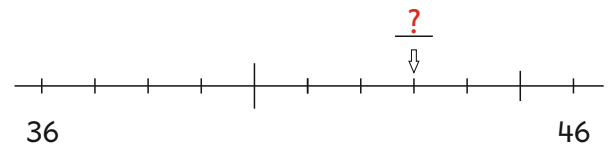
Wie heißt die Zahl ?



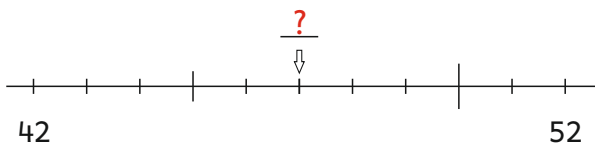
Wie heißt die Zahl ?



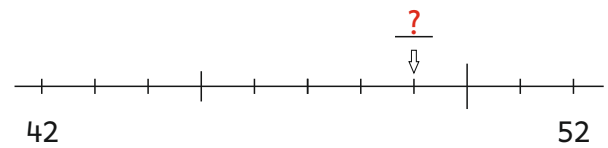
Wie heißt die Zahl ?



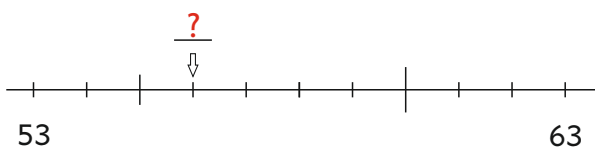
Wie heißt die Zahl ?



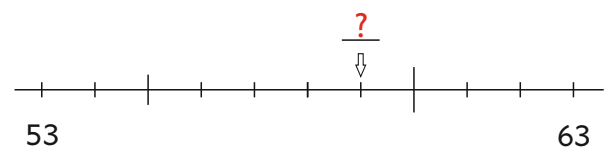
Wie heißt die Zahl ?



Wie heißt die Zahl ?



Wie heißt die Zahl ?



32

26

43

39

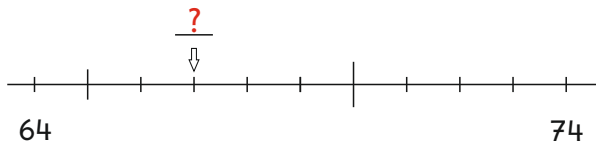
49

47

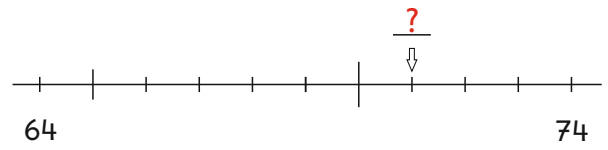
59

56

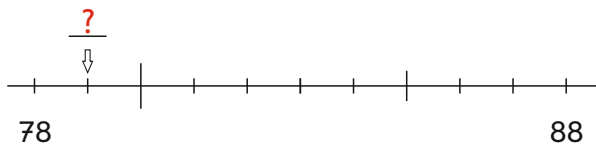
Wie heißt die Zahl ?



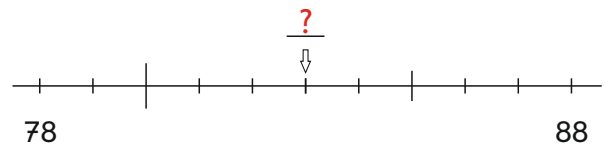
Wie heißt die Zahl ?



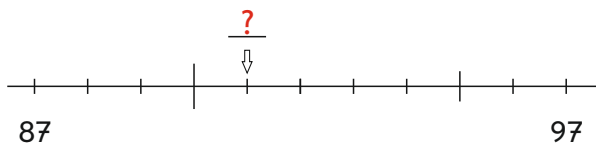
Wie heißt die Zahl ?



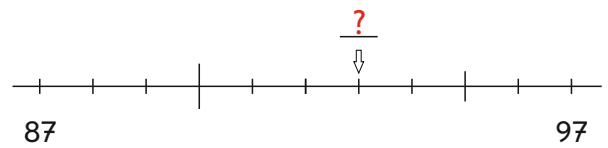
Wie heißt die Zahl ?



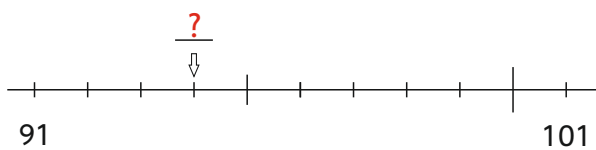
Wie heißt die Zahl ?



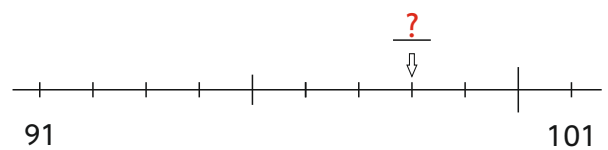
Wie heißt die Zahl ?



Wie heißt die Zahl ?



Wie heißt die Zahl ?



71

67

83

79

93

91

98

94