

1

Subtrahiere und streiche in der Raupe das richtige Ergebnis durch.

$$\begin{array}{r} 856 \\ - 214 \\ \hline \end{array}$$

--	--	--	--

$$\begin{array}{r} 537 \\ - 424 \\ \hline \end{array}$$

--	--	--	--

$$\begin{array}{r} 648 \\ - 331 \\ \hline \end{array}$$

--	--	--	--

$$\begin{array}{r} 496 \\ - 270 \\ \hline \end{array}$$

--	--	--	--

$$\begin{array}{r} 973 \\ - 662 \\ \hline \end{array}$$

--	--	--	--

$$\begin{array}{r} 258 \\ - 134 \\ \hline \end{array}$$

--	--	--	--

$$\begin{array}{r} 796 \\ - 502 \\ \hline \end{array}$$

--	--	--	--

$$\begin{array}{r} 844 \\ - 613 \\ \hline \end{array}$$

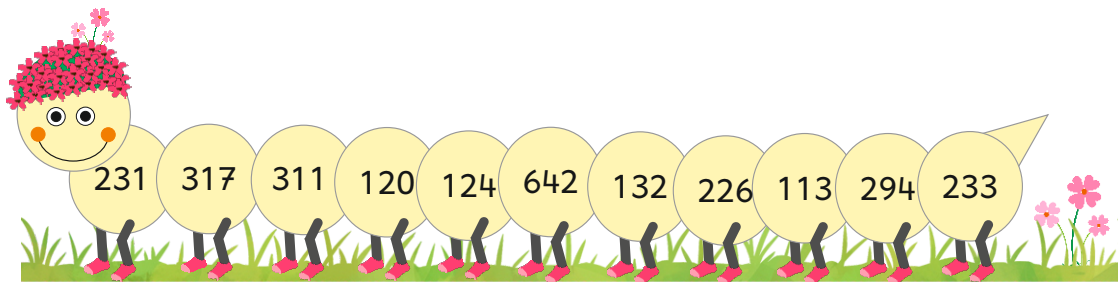
--	--	--	--

$$\begin{array}{r} 367 \\ - 235 \\ \hline \end{array}$$

--	--	--	--

$$\begin{array}{r} 523 \\ - 403 \\ \hline \end{array}$$

--	--	--	--



Welche Zahl bleibt übrig? \_\_\_\_\_

2

Subtrahiere und streiche in der Raupe das richtige Ergebnis durch.

$$\begin{array}{r} 683 \\ - 452 \\ \hline \end{array}$$

--	--	--	--

$$\begin{array}{r} 879 \\ - 347 \\ \hline \end{array}$$

--	--	--	--

$$\begin{array}{r} 465 \\ - 132 \\ \hline \end{array}$$

--	--	--	--

$$\begin{array}{r} 986 \\ - 643 \\ \hline \end{array}$$

--	--	--	--

$$\begin{array}{r} 764 \\ - 231 \\ \hline \end{array}$$

--	--	--	--

$$\begin{array}{r} 582 \\ - 461 \\ \hline \end{array}$$

--	--	--	--

$$\begin{array}{r} 794 \\ - 503 \\ \hline \end{array}$$

--	--	--	--

$$\begin{array}{r} 826 \\ - 415 \\ \hline \end{array}$$

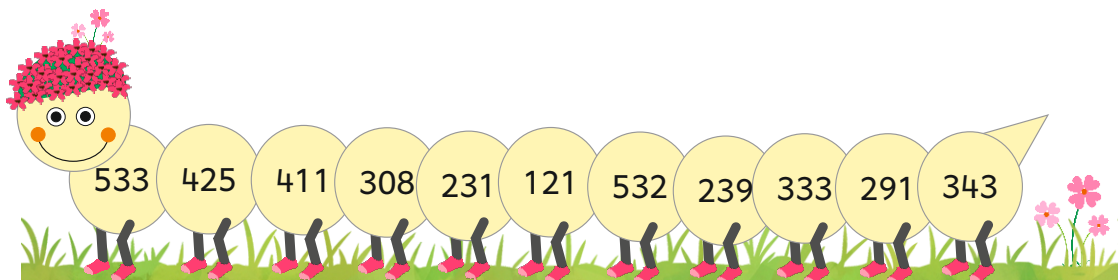
--	--	--	--

$$\begin{array}{r} 379 \\ - 140 \\ \hline \end{array}$$

--	--	--	--

$$\begin{array}{r} 648 \\ - 223 \\ \hline \end{array}$$

--	--	--	--



Welche Zahl bleibt übrig? \_\_\_\_\_

3

Subtrahiere und streiche in der Raupe das richtige Ergebnis durch.

$$\begin{array}{r} 563 \\ - 235 \\ \hline \end{array}$$

--	--	--	--

$$\begin{array}{r} 854 \\ - 428 \\ \hline \end{array}$$

--	--	--	--

$$\begin{array}{r} 936 \\ - 383 \\ \hline \end{array}$$

--	--	--	--

$$\begin{array}{r} 682 \\ - 547 \\ \hline \end{array}$$

--	--	--	--

$$\begin{array}{r} 463 \\ - 271 \\ \hline \end{array}$$

--	--	--	--

$$\begin{array}{r} 778 \\ - 395 \\ \hline \end{array}$$

--	--	--	--

$$\begin{array}{r} 636 \\ - 152 \\ \hline \end{array}$$

--	--	--	--

$$\begin{array}{r} 861 \\ - 335 \\ \hline \end{array}$$

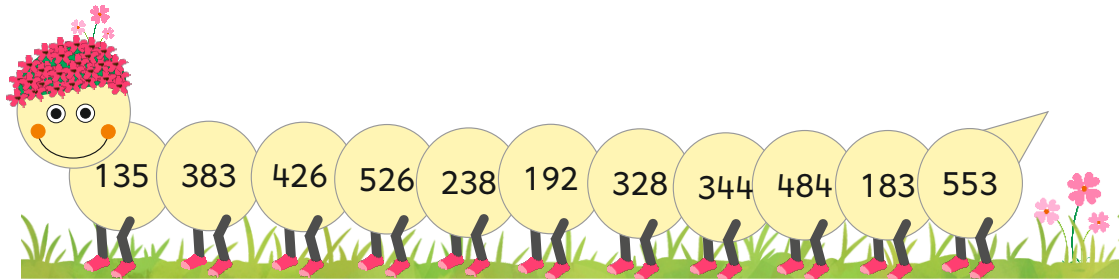
--	--	--	--

$$\begin{array}{r} 953 \\ - 770 \\ \hline \end{array}$$

--	--	--	--

$$\begin{array}{r} 365 \\ - 127 \\ \hline \end{array}$$

--	--	--	--



Welche Zahl bleibt übrig? \_\_\_\_\_

4

Subtrahiere und streiche in der Raupe das richtige Ergebnis durch.

$$\begin{array}{r} 587 \\ - 239 \\ \hline \end{array}$$

--	--	--	--

$$\begin{array}{r} 673 \\ - 158 \\ \hline \end{array}$$

--	--	--	--

$$\begin{array}{r} 848 \\ - 363 \\ \hline \end{array}$$

--	--	--	--

$$\begin{array}{r} 965 \\ - 429 \\ \hline \end{array}$$

--	--	--	--

$$\begin{array}{r} 436 \\ - 227 \\ \hline \end{array}$$

--	--	--	--

$$\begin{array}{r} 824 \\ - 173 \\ \hline \end{array}$$

--	--	--	--

$$\begin{array}{r} 754 \\ - 236 \\ \hline \end{array}$$

--	--	--	--

$$\begin{array}{r} 465 \\ - 282 \\ \hline \end{array}$$


--	--	--	--

$$\begin{array}{r} 639 \\ - 387 \\ \hline \end{array}$$

--	--	--	--

$$\begin{array}{r} 526 \\ - 272 \\ \hline \end{array}$$

--	--	--	--



Welche Zahl bleibt übrig? \_\_\_\_\_

5

Subtrahiere und streiche in der Raupe das richtige Ergebnis durch.

$$\begin{array}{r} 456 \\ - 278 \\ \hline \end{array}$$

--	--	--	--

$$\begin{array}{r} 827 \\ - 549 \\ \hline \end{array}$$

--	--	--	--

$$\begin{array}{r} 631 \\ - 457 \\ \hline \end{array}$$

--	--	--	--

$$\begin{array}{r} 525 \\ - 178 \\ \hline \end{array}$$

--	--	--	--

$$\begin{array}{r} 360 \\ - 295 \\ \hline \end{array}$$

--	--	--	--

$$\begin{array}{r} 704 \\ - 337 \\ \hline \end{array}$$

--	--	--	--

$$\begin{array}{r} 923 \\ - 585 \\ \hline \end{array}$$

--	--	--	--

$$\begin{array}{r} 606 \\ - 258 \\ \hline \end{array}$$

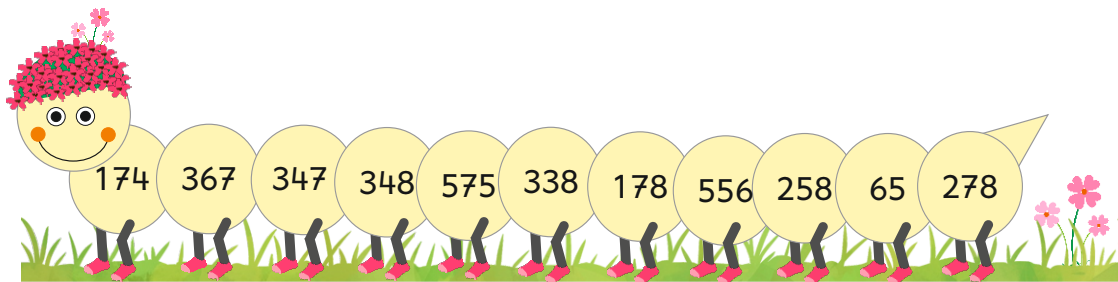
--	--	--	--

$$\begin{array}{r} 430 \\ - 172 \\ \hline \end{array}$$

--	--	--	--

$$\begin{array}{r} 825 \\ - 269 \\ \hline \end{array}$$

--	--	--	--



Welche Zahl bleibt übrig? \_\_\_\_\_

6

Subtrahiere und streiche in der Raupe das richtige Ergebnis durch.

$$\begin{array}{r} 936 \\ - 587 \\ \hline \end{array}$$

--	--	--	--

$$\begin{array}{r} 963 \\ - 478 \\ \hline \end{array}$$

--	--	--	--

$$\begin{array}{r} 813 \\ - 397 \\ \hline \end{array}$$

--	--	--	--

$$\begin{array}{r} 723 \\ - 255 \\ \hline \end{array}$$

--	--	--	--

$$\begin{array}{r} 456 \\ - 187 \\ \hline \end{array}$$

--	--	--	--

$$\begin{array}{r} 702 \\ - 236 \\ \hline \end{array}$$

--	--	--	--

$$\begin{array}{r} 641 \\ - 362 \\ \hline \end{array}$$

--	--	--	--

$$\begin{array}{r} 863 \\ - 294 \\ \hline \end{array}$$

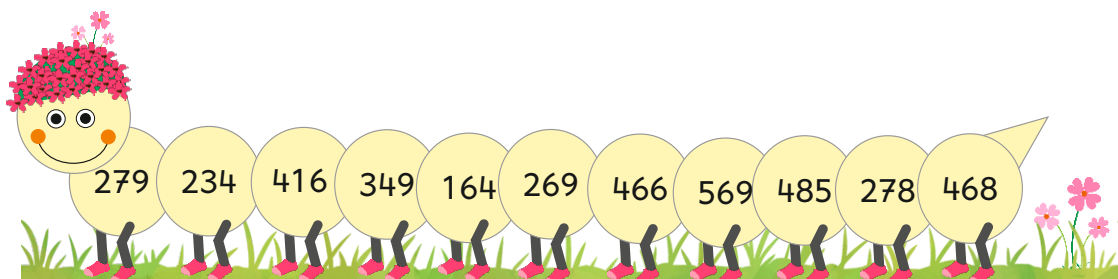
--	--	--	--

$$\begin{array}{r} 436 \\ - 272 \\ \hline \end{array}$$

--	--	--	--

$$\begin{array}{r} 973 \\ - 695 \\ \hline \end{array}$$

--	--	--	--



Welche Zahl bleibt übrig? \_\_\_\_\_